

QUIZZ SUR THEME 1

MENAGES ET CONSOMMATION



PREMIERE PARTIE : D'OU PROVIENNENT LES RESSOURCES DES MENAGES ?

I/ QCM

A) Un ménage au sens de l'INSEE désigne :

- Un couple qui décide de s'installer dans un appartement.
- L'ensemble des occupants d'un même logement sans que ces personnes soient forcément unies par des liens de parenté.
- L'ensemble des familles qui occupent un même logement

B) Une personne célibataire constitue un ménage au sens de l'INSEE :

- VRAI
- FAUX

C) Un couple avec ou sans enfants constitue un ménage au sens de l'INSEE :

- VRAI
- FAUX

D) Un couvent constitue un ménage au sens de l'INSEE :

- VRAI
- FAUX

E) Les REVENUS PRIMAIRES désignent :




- Les revenus destinés à satisfaire les besoins primaires (se nourrir, se vêtir, se loger)
- Les revenus obtenus par les ménages en échange de leur participation à l'activité productive.

F) Les BESOINS SECONDAIRES désignent des besoins qui ne sont pas indispensables pour pouvoir vivre (loisirs, culture, voyage divertissement)

- VRAI
- FAUX

G) Compléter le tableau ci-dessous à l'aide des termes suivants :

REVENUS MIXTES, REVENUS DU TRAVAIL, REVENUS DE LA PROPRIETE, REVENUS PRIMAIRES

.....		<p>Exemples : Salaire d'une employée. Traitement d'un fonctionnaire (policier, professeur)</p>
		<p>Exemples : Revenus d'un boulanger, d'un maçon indépendant</p>
		<p>Exemples : loyers perçus sur un appartement, intérêts d'un placement, dividendes sur action</p>

H) Compléter l'égalité ci dessous à l'aide des termes suivants :

COTISATIONS SOCIALES, REVENUS PRIMAIRES, REVENUS DE TRANSFERT, IMPOTS ET TAXES.

REVENU DISPONIBLE
=
.....
- (.....+.....)
+

K) LES IMPOTS ET TAXES servent à payer les fonctionnaires : VRAI FAUX

I) Les COTISATIONS SOCIALES sont versés aux organismes sociaux (Sécurité Sociale, Pole Emploi, Retraite) et servent à couvrir les ménages contre la maladie, la vieillesse et la retraite sous forme de prestation

VRAI FAUX

J) L'objectif des REVENUS DE TRANSFERT est :

- De réduire les écarts entre les ménages les plus riches et les ménages les plus modestes.
- d'augmenter les écarts entre les ménages les plus riches et les ménages les plus modestes.
- d'inciter les ménages à travailler moins

II/ ANALYSE D'UN TABLEAU

REPARTITION DES REVENUS PRIMAIRES EN FRANCE EN 2008

(SOURCE : INSEE)

ELEMENTS	En milliards d'€	en %
REVENUS SALARIAUX	1015	70,4%
REVENUS MIXTES	298	20,7%
REVENUS DU PATRIMOINE	128	8,8%
TOTAL DES REVENUS PRIMAIRES	1 441	100%

1/ Quel est le phénomène étudié ? Source documentaire ? Lieu géographique ? Année ?

2/ Faire une phrase à partir des chiffres « grisés ». Que signifient ces chiffres ?

1015 :

1441 :

20,7% :

3/ Comment sont calculés les pourcentages suivants ? (méthodologie ?)

70,4 % :

20,7% :

4/ Compléter le graphique à partir des informations du tableau

RÉPARTITION DES REVENUS PRIMAIRES EN FRANCE EN 2008



5/ Que pouvez vous conclure à la lecture de ce graphique ?

III/ APPLICATION : REVENUS PRIMAIRES DE LA FAMILLE SIMPSON



Vous êtes chargés de calculer les revenus primaires de la famille SIMPSON en les classifiant.

La famille SIMPSON détient des livrets A qui leur rapporte 1000 € d'intérêts / an et d'un appartement à la mer qui leur rapporte 5000 € de loyers par an.

Marge Simpson, la mère, a ouvert un magasin de vêtements qui a rapporté 4000 € de bénéfices

Homer Simpson, le père, est chef de sécurité à la centrale nucléaire de Springfield il touche un salaire brut de 60 000 € /an

1/ Compléter le tableau à l'aide des informations dont vous disposez :

REVENUS DU TRAVAIL	REVENUS MIXTES	REVENUS DU PATRIMOINE	TOTAL DES REVENUS PRIMAIRES

IV/ REVENUS DISPONIBLES DE LA FAMILLE SIMPSON

20% du salaire brut annuel de Homer Simpson a été prélevé sous forme de cotisations sociales au profit des organismes sociaux.

Avant d'ouvrir son magasin de fleurs Marge Simpson était demandeuse d'emploi elle a touché une allocation chômage pendant 6 mois soit 5000 €. Marge Simpson est exonérée de cotisations sociales pendant la première année de son activité de commerçante.

Les SIMPSON ont du également payer l'impôt sur les revenus qui s'est élevé à 2000 € et des taxes locales pour 1000 €.

Ils ont 3 enfants : 3 mineurs grâce à qui ils touchent 3000 € d'allocations familiales, 1000 € d'allocation de rentrée scolaire.

1/ Calculer le revenu disponible de la famille SIMPSON à l'aide de la formule vue en page 2 question H

2/ Que constatez vous ? Pour quelle raison ?

DEUXIEME PARTIE : LA REPARTITION DU REVENU DISPONIBLE

I/ ANALYSE D'UN TABLEAU

Evolution de la structure de la consommation des ménages en France entre 1960 et 2009

POSTES BUDGETAIRES	1960	2009	
	Coefficient budgétaire en %	Coefficient budgétaire en %	Montants en milliards d'€
Alimentation, boisson, tabac	33,3 %	16,5 %	179,4
Habillement chaussures	12,2 %	4,4 %	47,4
Logement eau gaz électricité équipement du logement	17,3 %	31,6 %	343,4
Santé	2,3 %	3,8 %	41,1
Transport	10,9 %	14,3 %	154,6
Communications	0,6 %	2,7 %	29,3
Loisirs, culture, éducation	8 %	9,1 %	98,9
Services divers (hotels, café, restaurants, assurances, soins)	15,4 %	18,3 %	198,5
DEPENSE TOTALE DE CONSOMMATION	100%	100%	1084,6

Source : INSEE (Institut national de la statistique et des études économiques)

1/ Stabiliser sur le tableau les rubriques qui correspondent aux besoins primaires.

2/ Trouver un synonyme de coefficient budgétaire en % :

3/ Faire des phrases précises en donnant du sens avec chacun des chiffres grisés.

- 33,33 % :

- 14,3 % :

- 1084,6 :

4/ Quels sont les postes qui ont vu leur part augmenter ? (Flèche ↗ sur tableau)

5/ Quels sont les postes qui ont vu leur part diminuer ? (Flèche ↘ sur tableau)

6/ Cela signifie-t-il que nous mangeons moins en 2009 qu'en 1960 ? VRAI FAUX

7/ Le poste Loisirs, culture, Education a augmenté entre 1960 et 2009 de :

1,1 point

1,1 %

1,1 milliard d'€

8/ Quel économiste a démontré que lorsque les revenus augmentent la part consacrée aux besoins primaires diminue au profit des besoins secondaires ?

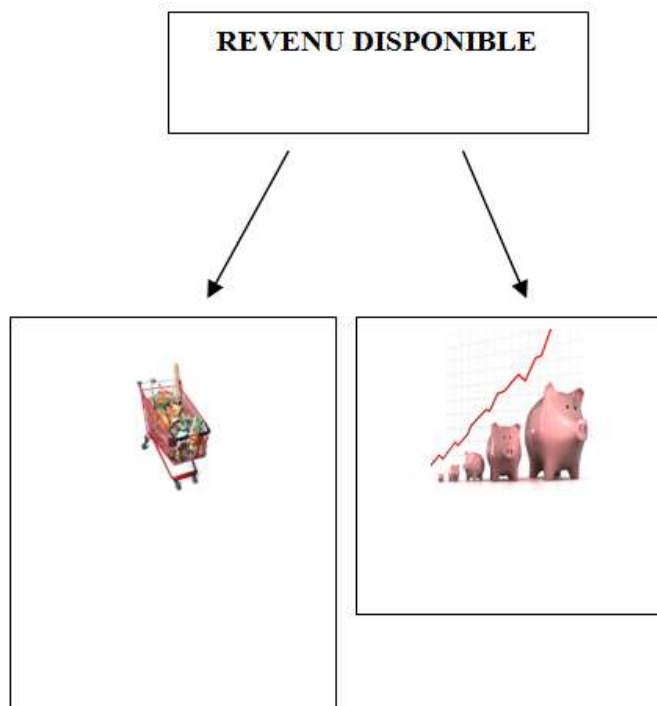
Keynes

Engel

Marx

II/ SCHEMAS

Compléter le schéma suivant :

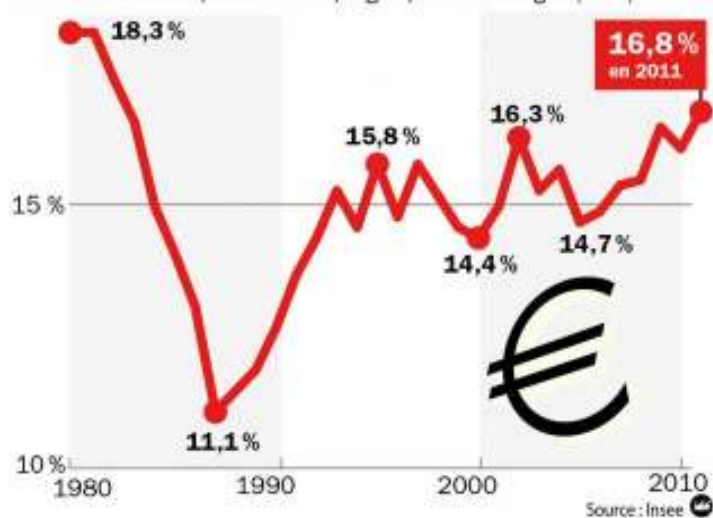


POUR QUELLES RAISONS EPARGNE T ON ?

EPARGNE DE	EPARGNE POUR	EPARGNE DE
Ex :	Ex :	Ex :

Les Français épargnent de plus en plus

Part du revenu disponible brut épargné par les ménages (en %)



D'après le graphique :

A combien s'élève le taux d'épargne en 2011 ?

Que signifie concrètement ce chiffre ?

TROISIEME PARTIE : LA CONSOMMATION : UN MARQUEUR SOCIAL ?

I/ ANALYSE D'UN TABLEAU :

Salaires et consommation, une comparaison employés / ouvriers

	Salaires mensuels moyens (en euros)	Possession d'un micro-ordinateur (en %)	Possession d'une voiture (en %)	Taux de départ en vacances (en %)	Ont lu au moins un livre au cours de l'année	Sont allés au moins une fois au musée ou à une exposition au cours de l'année
Employés	1393	71	76	63	63	17
Ouvriers	1464	63	85	48	32	30

Source : INSEE, données 2007 (sauf départ en vacances : 2004)

Champ : France métropolitaine

Q1/ Cocher la bonne réponse :

- L'INSEE a interrogé 1393 employés en 2004
- Le salaire mensuel moyen des employés s'élevait à 1393 € en 2004 d'après l'INSEE
- 63% des employés sont partis en vacances en 2004 contre 48% des ouvriers.
- D'après ce sondage 63 employés et 48 ouvriers sont partis en vacances en 2004

Q2/ Comparez les consommations des ouvriers et des employés.

Q3/ Quelle conclusion pouvez vous en tirer ?

III/ ANALYSE D'UN TEXTE ET D'UNE IMAGE

**Avoir une Rolex,
un signe de réussite sociale ?**

“ Comment peut-on reprocher à un Président d'avoir une Rolex ? Une Rolex, enfin, tout le monde a une Rolex... Si à 50 ans on n'a pas une Rolex, on a quand même raté sa vie ”

Jacques Séguéla, interview sur France 2,
Télé-matin, 13 février 2009

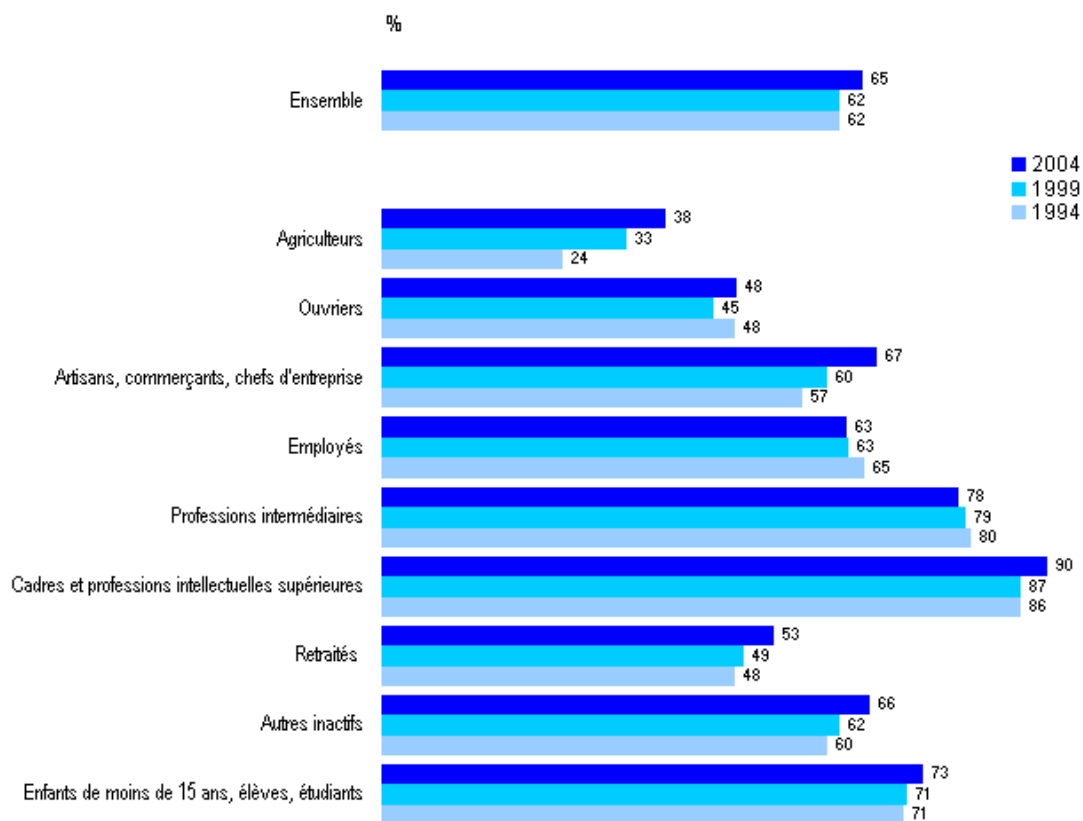


Q1/: Le « tout le monde » auquel fait référence Jacques Séguéla concerne-t-il l'ensemble de la société française ?

Q2/: Que cherche à signifier l'individu portant une Rolex ?

III/ ANALYSE D'UN GRAPHIQUE :

Taux de départ en vacances selon la catégorie sociale



Champ : France métropolitaine.

Source : Insee, enquête permanente sur les conditions de vie (EPCV).

Après avoir étudié le graphique dire si les propositions suivantes sont elles vraies ou fausses ? (Justifier ou rectifier si faux)

- ▶ Depuis 1994, la proportion de personnes vivant en France qui part en vacances ne s'est pas modifiée.
- ▶ Les cadres et professions intellectuelles supérieures ont plus de congés que les autres catégories.
- ▶ Les salariés partent plus en vacances que les indépendants.
- ▶ Les retraités partent plus en vacances que les actifs.
- ▶ Les départs en vacances sont liés aux revenus.